

Всероссийская олимпиада школьников по географии 2023 -2024. Школьный этап. 9-11 кл.

БЛАНК ОТВЕТОВ
Теоретический тур

ШИФР: Г-9-12

1.

1	2	3	4	5
В ✓	Г ✓	Б ✓	А ✓	Д ✓

58

2.

1	2	3	4	5

-

3. Амазонка 18

4. озеро Ханга -

5. А 18

6. А 18

7. Г 18

8.

1	2	3	4
Г ✓	А	Б ✓	В

28

9. В 18

10. В

11. Г, В, 3 38

12. 5

13. 2

14. 4

15. Г 18

Практический тур

Г-9-12

1.

1. Ошибка в логическом ряду	Патагонское море -
2. Обоснование исключения	Не межконтинентальное -

2.

Большая местность, близость к морю
 Польша +20

3.

№	Объединяющий признак	Белая ворона	Объяснение	Продолжение логического ряда
1	Город. города	Красноярск	не город	Петрозавлуск -
2				-
3	Возаны одним железнодорож. путём	Иркутск	не возан составлен	Экутск -
4	Не нахо. в европ. части РФ	Респуб. Карелия	нахо. на европ. части РФ	Амская область -
5	Курортные / турист. города	Белоурисск	не курортный город	Сочи -

Всероссийская олимпиада школьников по географии 2023 -2024. Школьный этап. 9-11 кл.

БЛАНК ОТВЕТОВ
Теоретический тур

ШИФР: 1-9-08

1.

1	2	3	4	5
В ✓	Г ✓	Б ✓	А ✓	Д ✓

50

2.

1	2	3	4	5

-

3. Днепр. -

4. Байкал -

5. В

6. Г

7. В

8.

1	2	3	4
Г ✓	А	Б ✓	В

20

9. В 10

10. А 10

11. А В 3 20

12. В 10

13. 3 10

14. Г

15. Г 10

Практический тур

Г-9-08

1.

1. Ошибка в логическом ряду	Ленинград. 28
2. Обоснование исключения	Все кроме Ленинграда, не ведут своих эмигрантов на берега

2.

3.

№	Объединяющий признак	Белая ворона	Объяснение	Продолжение логического ряда
1	отрасль хозяйства	Самарская	не обрабатывает т.к. меньше урожая	Волгоград, Краснодарск, Ульяновск, Красноярск, Челябинск, Новосибирск
2	административно-территориальное деление	Новый	не делится	Казань, Барнаул, Челябинск, Абакан, Ижевск
3	транспорт	Саратов	мало тран.-спорта	Москва, Омск, Краснодарск, Иркутск, Владивосток
4	местоположение	Республика Карелия	похоронены далеко в лесу	Закарпатский край, Приморский край, Калининградская область, Камчатская область, Республика Дагестан
5	функция городов.	Республика Дагестан	не выполняет функций	Белгородская, Белгородская, Анапа, Зинько, Старый Русса

Всероссийская олимпиада школьников по географии 2023 -2024. Школьный этап. 7-8 классы

БЛАНК ОТВЕТОВ

Теоретический тур

ШИФР: Г-В-06

1.

1	2	3	4	5
В ✓	Г ✓	Б ✓	А ✓	Д ✓

50

2.

1	2	3	4
		Аравийский	

10

3. Амазонка 10

4. Ладожское. -

5. Гипс, Доломит 10

6. прикислородная мощность. 10

7. 1:5000. 10

8.

1	2	3	4
Г ✓	А	Б ✓	В

20

9. В 10

10. А 10

Практический тур

1.

1. Ошибка в логическом ряду	Двугордый верблюд.
2. Обоснование исключения	двугордый верблюд встречается на одном материке а другие животные встречаются на всех континентах.

2.

всероссийская олимпиада школьников по географии 2023 -2024. Школьный этап. 7-8 классы

БЛАНК ОТВЕТОВ

Теоретический тур

ШИФР: **Г-8-05**

1.

1	2	3	4	5
В ✓	Г ✓	Б ✓	А ✓	Д ✓

50

2.

1	2	3	4
	Периновый <small>Кий п-ов</small>	Аравийский <small>полуост.</small>	Северо-африканский <small>п-ов</small>

25

3. **Амазонский бассейн** 15

4. **оз. Байкал** -

5. ~~Г) 1:5000~~ **Б) Чоколь, Шинка**

6. **Амазонская низменность** ~~Б)~~ -

7. **Г) 1:5000** 15

8.

1	2	3	4
Г ✓	А	Б ✓	В

25

9. **В)** 15

10. **А)** 15

Практический тур

1.

1. Ошибка в логическом ряду	Двуногий верблюд
2. Обоснование исключения	Обитает только в пустынях.

2.

БЛАНК ОТВЕТОВ

Теоретический тур

ШИФР: F-6-02

1. 2

1	2	3	4
2	а	б	д

2. 0

1	2	3	4
Черное	Каспийское	Южное	Мраморное

0 3. Австралия

0 4. Байкал

1 5. а

1 6. а

1 7. 2

8. 2

1	2	3	4
2	а	б	в

2 9. 5, 2

2 10. а, в

Практический тур

1.

0 0 0

000 00	Широколиственный лес
0	Ключ, родник
УУУ	Сплошные заросли кустарника

2.

1 0 0 1

Объект	Сторона горизонта
Еловый лес	Север - восток
Болото	Юго-запад
Тропинка	Север - запад
Дом	Юго - восток

3.

3 7 - 8°

БЛАНК ОТВЕТОВ

Теоретический тур

ШИФР: Г-6-05

1. 1

1	2	3	4
В	А	Г	Б

2. 0

1	2	3	4
1	2	3	4

3. 0 Мадагаскар

4. 0

5. 1 а) Христофор Колумб

6. 1 а) Сумчатые

7. 1 г) 1:5000

8. 2




1	2	3	4
Г	В	А	Б

9. 0 А

10. 1 А

Практический тур

1.

1		Широколиственный лес
0		Ключ, родник
0		Сплошные заросли кустарника

2.

Объект	Сторона горизонта
1 Еловый лес	Северо - восточная
0 Болото	Юго - западная
1 Тропинка	Западная
1 Дом	Юго - восточная

3. 3 4°

Г-4-10

Задания школьного этапа Всероссийской олимпиады по географии
2023–2024 учебный год.

4 класс

Время выполнения заданий – 45 минут
Максимальный балл за все задания – 50 баллов

338

Уважаемые участники олимпиады, теоретический тур олимпиады включает 4 задания. Внимательно познакомьтесь с характером каждого из них и определите для себя последовательность выполнения работы. Ответы каждого из них запишите в листе ответов.

Начинать работу можно с любого задания, однако, рекомендуется выполнять задания в том порядке, в котором они даны. Если какое-то задание вызывает у вас затруднение, пропустите его и постарайтесь выполнить те, в ответах которых вы уверены. К пропущенным заданиям можно будет вернуться, если у вас останется время.

Часть I. – 20 баллов (по 1 баллу за каждый правильный ответ).

125

Вопросы с выбором одного правильного ответа из четырёх предложенных.

1. В переводе с греческого языка «география» означает

- а) описание Земли б) изучение Земли в) жизнь на Земле г) изменение Земли

2. Что такое глобус?

- а) модель Солнца б) модель Земли в) модель шара

3. Какой признак отличает нашу планету от других «планет земной группы»?

- а) имеет твёрдую поверхность
б) имеет атмосферу
в) имеет естественный спутник
г) присутствует вода в жидком, твёрдом и газообразном состоянии

4. К объектам живой природы относится

- а) кристалл б) сосулька в) гриб г) луна

5. Кто из древних ученых первым предположил, что Земля имеет форму шара?

- а) Пифагор б) Птолемей в) Коперник г) Аристотель

6. Отметьте ряд, в котором указаны планеты, входящие в группу планет-гигантов.

- а) Сатурн, Земля, Марс б) Марс, Венера, Юпитер
в) Земля, Плутон, Уран, Нептун г) Юпитер, Сатурн, Уран, Нептун

7. Дополните утверждение: «На сегодняшний день существует ... материков».

- а) 8 б) 4 в) 5 г) 6

8. Какой материк называют Новым светом?

- а) Африка б) Америка в) Антарктида г) Австралия.

9. Как называется прибор для ориентирования на местности?

- а) компас б) флюгер в) азимут г) барометр

10. Если встать лицом на север, то с правой стороны будет:

- а) юг б) восток в) запад г) северо – восток

11. Как появилась почва?

- а) она всегда была на планете
б) в результате извержения вулкана
в) из рыхлого слоя горных пород, измененного растениями и животными
г) в результате распашки полей человеком

12. Какие горы принято считать границей между Европой и Азией?

- а) Алтайские горы б) Уральские горы
в) Кавказские горы г) Воробьевы горы

13. Какая из перечисленных гор находится в России и является высочайшей вершиной Европы?

- а) Эльбрус
- б) Эверест
- в) Мак-Кинли
- г) Килиманджаро

14. Моря какого океана не омывают берега России?

- а) Индийского
- б) Тихого
- в) Северного Ледовитого
- г) Атлантического

15. Какая из перечисленных рек находится в России и является самой длинной в Европе?

- а) Енисей
- б) Лена
- в) Нева
- г) Волга

16. В России находится самое глубокое озеро мира. Как оно называется?

- а) озеро Ильмень
- б) Ладожское озеро
- в) озеро Байкал
- г) Онежское озеро

17. Полезные ископаемые – это...

- а) все минералы и горные породы, из которых состоит Земля.
- б) минералы и горные породы, которые используют люди
- в) полезные вещества, которые получают из горных пород и минералов.

18. Наиболее обширная природная зона России — это ...

- а) степь
- б) тундра
- в) пустыня
- г) тайга

19. Этот самый большой остров планеты, целиком покрыт льдами. Его коренные жители, эскимосы, занимаются охотой и рыболовством.

- а) Сахалин
- б) Гренландия
- в) Гавайи

20. Что такое карта полушарий?

- а) карта, на которой дано изображение какой-то территории.
- б) карта, на которой изображены две половинки земного шара.
- в) карта, на которой изображена Земля.

Часть II. 14б.

Разделите приведённые ниже слова на две группы: объекты природы и явления природы.

За каждый правильный ответ начисляется 1 балл.

бактерии	гроза	ледоход	озеро
ветер	землетрясение	листопад	половодье
воздух	камнепад	минералы	дерево
вулкан	родник	облако	спячка

Объекты природы	Явления природы
бактерии	гроза
облако	землетрясение
озеро	камнепад
дерево	листопад
родник	спячка
половодье	ветер
минералы	вулкан
воздух	ледоход

Часть III.

65

Г-4-10

За каждый правильный ответ начисляется 1 балл.

1. Подбери общий материк для следующих организмов: утконос, ехидна, кенгуру, дикая собака Динго, райские птицы.

Ответ: Австралия

2. Во всех этих словах течёт древнерусская река, впадающая в Азовское море. Отыщи её название. В ответе напиши получившееся слово.

ЛАДОНЬ, ДОНОС, БИДОН

Ответ: Ладога

3. Горилла – самая крупная из всех обезьян, живущих на Земле. Иногда ее вес не выдерживают даже большие деревья! Горилла очень сильная: мускулам на ее лапах может позавидовать любой спортсмен. Вспоминай, на каком континенте мы можем увидеть это удивительное животное в естественной среде обитания?

В ответе запиши название континента.

1 Ответ: Африка

4. Выберите ВСЕ правильные ответы.

Медуза – это живое существо, потому что она:

- 2 а) плавает в морях
- б) размножается
- в) питается
- г) может находиться только в воде
- д) дышит

5. Выберите ВСЕ правильные ответы. Выберите из списка животных, занесённых в Красную книгу России.

- 3 а) белый медведь
- б) русская выхухоль
- в) амурский тигр
- г) бурый медведь
- д) лось
- е) дальневосточный леопард

10. Часть IV. При выполнении заданий на соответствие к каждой позиции, данной в первом столбце, подберите соответствующую позицию из второго столбца.

Установите соответствие между исследователями (а-г) космоса и их достижениями (1-3).

1 а) Ю. Гагарин	1) Первый учёный, который доказал, что реальным средством освоения космоса станет ракета
б) С. Королёв	2) Первый полёт человека в космос
в) К. Циолковский	3) Организатор производства ракетно-космической техники
г) Н. Пилюгин	4) Создатель системы управления ракетами-носителями.

Г-4-06

Задания школьного этапа Всероссийской олимпиады по географии
2023–2024 учебный год.

4 класс

Время выполнения заданий – 45 минут

Максимальный балл за все задания – 50 баллов

365.

Уважаемые участники олимпиады, теоретический тур олимпиады включает 4 задания. Внимательно познакомьтесь с характером каждого из них и определите для себя последовательность выполнения работы. Ответы каждого из них запишите в листе ответов.

Начинать работу можно с любого задания, однако, рекомендуется выполнять задания в том порядке, в котором они даны. Если какое-то задание вызывает у вас затруднение, пропустите его и постарайтесь выполнить те, в ответах которых вы уверены. К пропущенным заданиям можно будет вернуться, если у вас останется время

Часть I. – 20 баллов (по 1 баллу за каждый правильный ответ).

158.

Вопросы с выбором одного правильного ответа из четырёх предложенных.

1. В переводе с греческого языка «география» означает

- а) описание Земли б) изучение Земли в) жизнь на Земле г) изменение Земли

2. Что такое глобус?

- а) модель Солнца б) модель Земли в) модель шара

3. Какой признак отличает нашу планету от других «планет земной группы»?

- а) имеет твёрдую поверхность

- б) имеет атмосферу

- в) имеет естественный спутник

- г) присутствует вода в жидком, твёрдом и газообразном состоянии

4. К объектам живой природы относится

- а) кристалл

- б) сосулька

- в) гриб

- г) луна

5. Кто из древних ученых первым предположил, что Земля имеет форму шара?

- а) Пифагор

- б) Птолемей

- в) Коперник

- г) Аристотель

6. Отметьте ряд, в котором указаны планеты, входящие в группу планет-гигантов.

- а) Сатурн, Земля, Марс

- б) Марс, Венера, Юпитер

- в) Земля, Плутон, Уран, Нептун

- г) Юпитер, Сатурн, Уран, Нептун

7. Дополните утверждение: «На сегодняшний день существует ... материков».

- а) 8

- б) 4

- в) 5

- г) 6

8. Какой материк называют Новым светом?

- а) Африка

- б) Америка

- в) Антарктида

- г) Австралия.

9. Как называется прибор для ориентирования на местности?

- а) компас

- б) флюгер

- в) азимут

- г) барометр

10. Если встать лицом на север, то с правой стороны будет:

- а) юг

- б) восток

- в) запад

- г) северо – восток

11. Как появилась почва?

- а) она всегда была на планете

- б) в результате извержения вулкана

- в) из рыхлого слоя горных пород, измененного растениями и животными

- г) в результате распашки полей человеком

12. Какие горы принято считать границей между Европой и Азией?

- а) Алтайские горы

- б) Уральские горы

- в) Кавказские горы

- г) Воробьевы горы

Г-4-06

Часть III.

75

За каждый правильный ответ начисляется 1 балл.

1. Подбери общий материк для следующих организмов: утконос, ехидна, кенгуру, дикая собака Динго, райские птицы.

Ответ: Австралия

2. Во всех этих словах течёт древнерусская река, впадающая в Азовское море. Отыщи её название. В ответе напиши получившееся слово.

ЛАДОНЬ, ДОНОС, БИДОН

Ответ: Дон

3. Горилла – самая крупная из всех обезьян, живущих на Земле. Иногда её вес не выдерживают даже большие деревья! Горилла очень сильная: мускулам на её лапах может позавидовать любой спортсмен. Вспоминай, на каком континенте мы можем увидеть это удивительное животное в естественной среде обитания?

В ответе запиши название континента.

Ответ: Южная Америка

4. Выберите ВСЕ правильные ответы.

Медуза – это живое существо, потому что она:

- а) плавает в морях
- б) размножается
- в) питается
- г) может находиться только в воде
- д) дышит

5. Выберите ВСЕ правильные ответы. Выберите из списка животных, занесённых в Красную книгу России.

- а) белый медведь
- б) русская выхухоль
- в) амурский тигр
- г) бурый медведь
- д) лось
- е) дальневосточный леопард

25

Часть IV. При выполнении заданий на соответствие к каждой позиции, данной в первом столбце, подберите соответствующую позицию из второго столбца.

Установите соответствие между исследователями (а-г) космоса и их достижениями (1-3).

а) Ю. Гагарин (а-2)	1) Первый учёный, который доказал, что реальным средством освоения космоса станет ракета
б) С. Королёв (б-1)	2) Первый полёт человека в космос
в) К. Циолковский (в-3)	3) Организатор производства ракетно-космической техники
г) Н. Пилюгин (г-4)	4) Создатель системы управления ракетами-носителями.

1-4-05

Задания школьного этапа Всероссийской олимпиады по географии
2023–2024 учебный год.

4 класс

Время выполнения заданий – 45 минут
Максимальный балл за все задания – 50 баллов

330

Уважаемые участники олимпиады, теоретический тур олимпиады включает 4 задания. Внимательно познакомьтесь с характером каждого из них и определите для себя последовательность выполнения работы. Ответы каждого из них запишите в листе ответов.

Начинать работу можно с любого задания, однако, рекомендуется выполнять задания в том порядке, в котором они даны. Если какое-то задание вызывает у вас затруднение, пропустите его и постарайтесь выполнить те, в ответах которых вы уверены. К пропущенным заданиям можно будет вернуться, если у вас останется время

Часть I. – 20 баллов (по 1 баллу за каждый правильный ответ). 120
Вопросы с выбором одного правильного ответа из четырёх предложенных.

1. В переводе с греческого языка «география» означает

- а) описание Земли б) изучение Земли в) жизнь на Земле г) изменение Земли

2. Что такое глобус?

- а) модель Солнца б) модель Земли в) модель шара

3. Какой признак отличает нашу планету от других «планет земной группы»?

- а) имеет твёрдую поверхность
б) имеет атмосферу
 в) имеет естественный спутник
г) присутствует вода в жидком, твёрдом и газообразном состоянии

4. К объектам живой природы относятся

- а) кристалл б) сосулька в) гриб г) луна

5. Кто из древних ученых первым предположил, что Земля имеет форму шара?

- а) Пифагор б) Птолемей в) Коперник г) Аристотель

6. Отметьте ряд, в котором указаны планеты, входящие в группу планет-гигантов.

- а) Сатурн, Земля, Марс б) Марс, Венера, Юпитер
в) Земля, Плутон, Уран, Нептун г) Юпитер, Сатурн, Уран, Нептун

7. Дополните утверждение: «На сегодняшний день существует ... материков».

- а) 8 б) 4 в) 5 г) 6

8. Какой материк называют Новым светом?

- а) Африка б) Америка в) Антарктида г) Австралия.

9. Как называется прибор для ориентирования на местности?

- а) компас б) флюгер в) азимут г) барометр

10. Если встать лицом на север, то с правой стороны будет:

- а) юг б) восток в) запад г) северо – восток

11. Как появилась почва?

- а) она всегда была на планете
 б) в результате извержения вулкана
в) из рыхлого слоя горных пород, измененного растениями и животными
г) в результате распашки полей человеком

12. Какие горы принято считать границей между Европой и Азией?

- а) Алтайские горы б) Уральские горы
 в) Кавказские горы г) Воробьевы горы

13.Какая из перечисленных гор находится в России и является высочайшей вершиной Европы?

- а) Эльбрус
- б) Эверест
- в) Мак-Кинли
- г) Килиманджаро

14.Моря какого океана не омывают берега России?

- а) Индийского
- б) Тихого
- в) Северного Ледовитого
- г) Атлантического

15. Какая из перечисленных рек находится в России и является самой длинной в Европе?

- а) Енисей
- б) Лена
- в) Нева
- г) Волга

16.В России находится самое глубокое озеро мира. Как оно называется?

- а) озеро Ильмень
- б) Ладожское озеро
- в) озеро Байкал
- г) Онежское озеро

17.Полезные ископаемые – это...

- а) все минералы и горные породы, из которых состоит Земля.
- б) минералы и горные породы, которые используют люди
- в) полезные вещества, которые получают из горных пород и минералов.

18. Наиболее обширная природная зона России — это ...

- а) степь
- б) тундра
- в) пустыня
- г) тайга

19.Этот самый большой остров планеты, целиком покрыт льдами. Его коренные жители, эскимосы, занимаются охотой и рыболовством.

- а) Сахалин
- б) Гренландия
- в) Гавайи

20.Что такое карта полушарий?

- а) карта, на которой дано изображение какой-то территории.
- б) карта, на которой изображены две половинки земного шара.
- в) карта, на которой изображена Земля.

Часть II. 130.

Разделите приведённые ниже слова на две группы: объекты природы и явления природы.

За каждый правильный ответ начисляется 1 балл.

бактерии	гроза	ледоход	озеро
ветер	землетрясение	листопад	половодье
воздух	камнепад	минералы	дерево
вулкан	родник	облако	спячка

130

Объекты природы	Явления природы
бактерии, камнепад , озеро, родник, минералы	землетрясение, ветер, вулкан , воздух, ледоход, листопад, гроза, спячка, половодье.
облако, дерево,	

Часть III.

75.

За каждый правильный ответ начисляется 1 балл.

1. Подбери общий материк для следующих организмов: утконос, ехидна, кенгуру, дикая собака Динго, райские птицы.

Ответ: Южная Америка

2. Во всех этих словах течёт древнерусская река, впадающая в Азовское море. Отыщи её название. В ответе напиши получившееся слово.

ЛАДОНЬ, ДОНОС, БИДОН

Ответ: ?

3. Горилла – самая крупная из всех обезьян, живущих на Земле. Иногда ее вес не выдерживают даже большие деревья! Горилла очень сильная: мускулам на ее лапах может позавидовать любой спортсмен. Вспоминай, на каком континенте мы можем увидеть это удивительное животное в естественной среде обитания?

В ответе запиши название континента.

Ответ: Африка

4. Выберите ВСЕ правильные ответы.

Медуза – это живое существо, потому что она:

- а) плавает в морях
- б) размножается
- в) питается
- г) может находиться только в воде
- д) дышит

5. Выберите ВСЕ правильные ответы. Выберите из списка животных, занесённых в Красную книгу России.

- а) белый медведь
- б) русская выхухоль
- в) амурский тигр
- г) бурый медведь
- д) лось
- е) дальневосточный леопард

Часть IV. При выполнении заданий на соответствие к каждой позиции, данной в первом столбце, подберите соответствующую позицию из второго столбца. Установите соответствие между исследователями (а-г) космоса и их достижениями (1-3).

а) Ю. Гагарин	1) Первый учёный, который доказал, что реальным средством освоения космоса станет ракета
б) С. Королёв	2) Первый полёт человека в космос
в) К. Циолковский	3) Организатор производства ракетно-космической техники
г) Н. Пилюгин	4) Создатель системы управления ракетами-носителями.

Г-4-03

Задания школьного этапа Всероссийской олимпиады по географии
2023–2024 учебный год.

4 класс

358

Время выполнения заданий – 45 минут
Максимальный балл за все задания – 50 баллов

Уважаемые участники олимпиады, теоретический тур олимпиады включает 4 задания. Внимательно познакомьтесь с характером каждого из них и определите для себя последовательность выполнения работы. Ответы каждого из них запишите в листе ответов.

Начинать работу можно с любого задания, однако, рекомендуется выполнять задания в том порядке, в котором они даны. Если какое-то задание вызывает у вас затруднение, пропустите его и постарайтесь выполнить те, в ответах которых вы уверены. К пропущенным заданиям можно будет вернуться, если у вас останется время

Часть I. – 20 баллов (по 1 баллу за каждый правильный ответ).
Вопросы с выбором одного правильного ответа из четырёх предложенных.

118

1. В переводе с греческого языка «география» означает
 а) описание Земли б) изучение Земли в) жизнь на Земле г) изменение Земли
2. Что такое глобус?
 а) модель Солнца б) модель Земли в) модель шара
3. Какой признак отличает нашу планету от других «планет земной группы»?
 а) имеет твёрдую поверхность
 б) имеет атмосферу
 в) имеет естественный спутник
 г) присутствует вода в жидком, твёрдом и газообразном состоянии
4. К объектам живой природы относится
 а) кристалл б) сосулька в) гриб г) луна
5. Кто из древних ученых первым предположил, что Земля имеет форму шара?
 а) Пифагор б) Птолемей в) Коперник г) Аристотель
6. Отметьте ряд, в котором указаны планеты, входящие в группу планет-гигантов.
 а) Сатурн, Земля, Марс б) Марс, Венера, Юпитер
 в) Земля, Плутон, Уран, Нептун г) Юпитер, Сатурн, Уран, Нептун
7. Дополните утверждение: «На сегодняшний день существует ... материков».
 а) 8 б) 4 в) 5 г) 6
8. Какой материк называют Новым светом?
 а) Африка б) Америка в) Антарктида г) Австралия.
9. Как называется прибор для ориентирования на местности?
 а) компас б) флюгер в) азимут г) барометр
10. Если встать лицом на север, то с правой стороны будет:
 а) юг б) восток в) запад г) северо – восток
11. Как появилась почва?
 а) она всегда была на планете
 б) в результате извержения вулкана
 в) из рыхлого слоя горных пород, измененного растениями и животными
 г) в результате распашки полей человеком
12. Какие горы принято считать границей между Европой и Азией?
 а) Алтайские горы б) Уральские горы
 в) Кавказские горы г) Воробьевы горы

13.Какая из перечисленных гор находится в России и является высочайшей вершиной Европы?

- а) Эльбрус
- б) Эверест
- в) Мак-Кинли
- г) Килиманджаро

14.Моря какого океана не омывают берега России?

- а) Индийского
- б) Тихого
- в) Северного Ледовитого
- г) Атлантического

15. Какая из перечисленных рек находится в России и является самой длинной в Европе?

- а) Енисей
- б) Лена
- в) Нева
- г) Волга

16.В России находится самое глубокое озеро мира. Как оно называется?

- а) озеро Ильмень
- б) Ладожское озеро
- в) озеро Байкал
- г) Онежское озеро

17.Полезные ископаемые – это...

- а) все минералы и горные породы, из которых состоит Земля.
- б) минералы и горные породы, которые используют люди
- в) полезные вещества, которые получают из горных пород и минералов.

18. Наиболее обширная природная зона России — это ...

- а) степь
- б) тундра
- в) пустыня
- г) тайга

19.Этот самый большой остров планеты, целиком покрыт льдами. Его коренные жители, эскимосы, занимаются охотой и рыболовством.

- а) Сахалин
- б) Гренландия
- в) Гавайи

20.Что такое карта полушарий?

- а) карта, на которой дано изображение какой-то территории.
- б) карта, на которой изображены две половинки земного шара.
- в) карта, на которой изображена Земля.

Часть II. 145

Разделите приведённые ниже слова на две группы: объекты природы и явления природы.

За каждый правильный ответ начисляется 1 балл. 145

бактерии	гроза	ледоход	озеро
ветер	землетрясение	листопад	половодье
воздух	камнепад	минералы	дерево
вулкан	родник	облако	спячка

Объекты природы	Явления природы
Бактерии	Ветер
Вулкан	воздух
родник	гроза
ледоход	землетрясение
минералы	камнепад
облако	листопад
озеро	половодье
дерево	спячка

Часть III.

За каждый правильный ответ начисляется 1 балл.

1. Подбери общий материк для следующих организмов: утконос, ехидна, кенгуру, дикая собака Динго, райские птицы.

Ответ: австралия, африка

2. Во всех этих словах течёт древнерусская река, впадающая в Азовское море. Отыщи её название. В ответе напиши получившееся слово.

ЛАДОНЬ, ДОНОС, БИДОН

Ответ: ладобид

3. Горилла – самая крупная из всех обезьян, живущих на Земле. Иногда ее вес не выдерживают даже большие деревья! Горилла очень сильная: мускулам на ее лапах может позавидовать любой спортсмен. Вспоминай, на каком континенте мы можем увидеть это удивительное животное в естественной среде обитания? В ответе запиши название континента.

Ответ: африка

4. Выберите ВСЕ правильные ответы.

Медуза – это живое существо, потому что она:

- а) плавает в морях
- б) размножается
- в) питается
- г) может находиться только в воде
- д) дышит

5. Выберите ВСЕ правильные ответы. Выберите из списка животных, занесённых в Красную книгу России.

- а) белый медведь
- б) русская выхухоль
- в) амурский тигр
- г) бурый медведь
- д) лось
- е) дальневосточный леопард

Часть IV. При выполнении заданий на соответствие к каждой позиции, данной в первом столбце, подберите соответствующую позицию из второго столбца.

Установите соответствие между исследователями (а-г) космоса и их достижениями (1-3).

а) Ю. Гагарин	1) Первый учёный, который доказал, что реальным средством освоения космоса станет ракета
б) С. Королёв	2) Первый полёт человека в космос
в) К. Циолковский	3) Организатор производства ракетно-космической техники
г) Н. Пилюгин	4) Создатель системы управления ракетами-носителями.